

география

# Контурные карты



# 10

класс



Класс \_\_\_\_\_  
Фамилия \_\_\_\_\_  
Имя \_\_\_\_\_

## Дорогие друзья!

Мы надеемся, что контурные карты помогут вам при изучении такого интересного предмета, как география. При выполнении любых заданий вы можете пользоваться школьным учебником и географическим атласом, но это не значит, что нужно перерисовывать подробно карты атласа, выполняйте только конкретные задания. Для того чтобы облегчить вашу работу, на каждой карте уже нанесена часть географических объектов. Это поможет вам быстрее сориентироваться, выполняя те задания, которые указаны на контурной карте, и задания, предложенные учителем дополнительно.

Помните, что контурная карта должна быть заполнена не только правильно, но и аккуратно. Посмотрите, как располагаются названия географических объектов в картах атласа. Чтобы не перегружать контурную карту, мелкие географические объекты можно отметить цифрами, а затем пояснить их значение в легенде карты.

Для правильного и аккуратного нанесения на контурную карту географических названий используйте линии рамок карты, речные системы, береговую линию и границы государств.

Перед началом работы определите условные знаки, которые вы будете использовать, и покажите их значение в легенде карты.

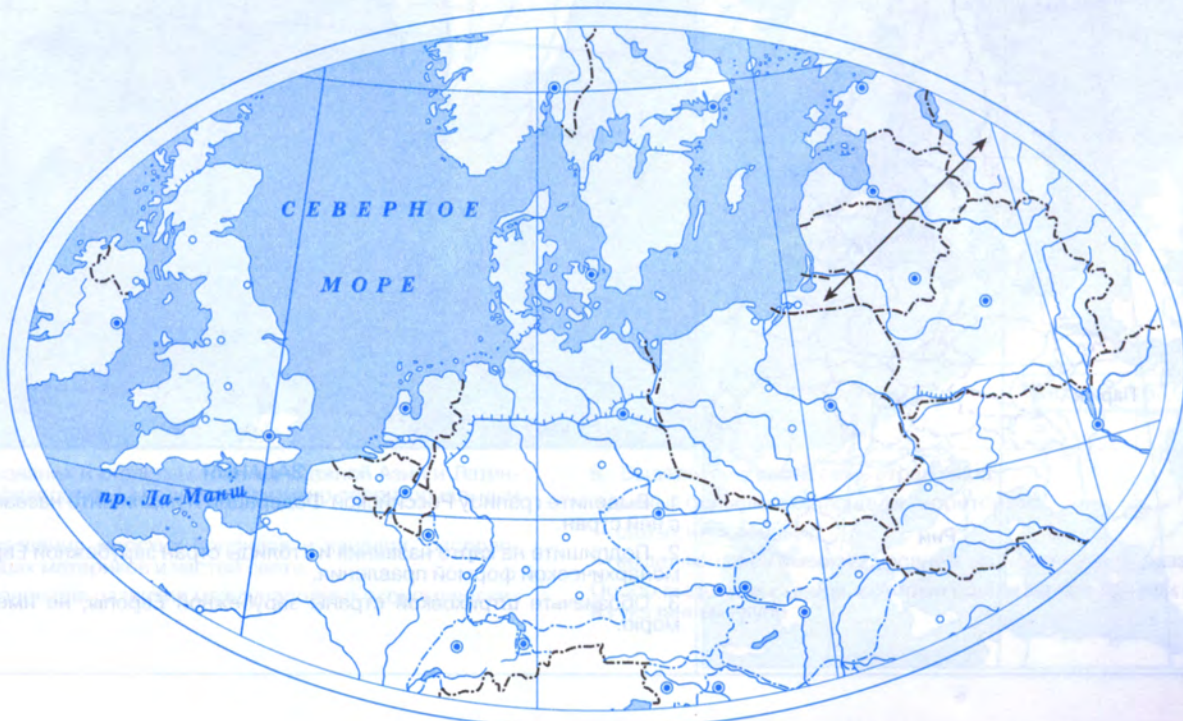
Желаем вам успехов в изучении географии и познании того мира, в котором мы живём.

Издательство ДИК



## СОДЕРЖАНИЕ

Страницы		Масштаб
2—3	КАРТА МИРА .....	1:83 000 000
4	ЗАРУБЕЖНАЯ ЕВРОПА .....	1:20 000 000
5	ВЕЛИКОБРИТАНИЯ .....	1:5 000 000
6	ФРАНЦИЯ .....	1:5 000 000
7	ИТАЛИЯ .....	1:5 000 000
8	ГЕРМАНИЯ .....	1:5 000 000
9	ЗАРУБЕЖНАЯ АЗИЯ .....	1:50 000 000
10	ИНДИЯ .....	1:20 000 000
11	ЯПОНИЯ .....	1:8 000 000
12	КИТАЙ .....	1:21 500 000
13	АФРИКА .....	1:40 000 000
14	СЕВЕРНАЯ АМЕРИКА .....	1:40 000 000
15	ЛАТИНСКАЯ АМЕРИКА .....	1:42 000 000
16	АВСТРАЛИЯ .....	1:25 000 000



# КАРТА МИРА



## ЗАДАНИЯ

1. Выделите границу Российской Федерации и подпишите названия пограничных с ней стран.
2. Подпишите на карте названия и столицы стран зарубежной Европы и Африки с монархической формой правления.
3. Обозначьте штриховкой страны зарубежной Европы, не имеющие выхода к морю.



4. Подпишите названия и столицы стран зарубежной Азии и Латинской Америки с федеративным административно-территориальным устройством.

5. Подпишите названия морских проливов и каналов, расположенных на границах материков и частей света. Оцените их значение для развития международных экономических связей.

6. Выделите на карте семь стран мира:

- самых больших по площади территории;
- самых населённых;
- выделяющихся высоким уровнем экономического развития.

Особо выделите страны, которые вошли во все три или в две из указанных групп.

# ЗАРУБЕЖНАЯ ЕВРОПА



## ЗАДАНИЯ

1. Покажите границы и подпишите страны, выделяющиеся по площади своей территории и количеству проживающего населения. Сплошной линией покажите границы Северной, Центральной (Средней) и Восточной Европы.
2. Выделите штриховкой страны, входящие в Европейский союз (ЕС).
3. С помощью условных знаков отметьте страны зарубежной Европы с федеративным административно-территориальным устройством.
4. Обозначьте микросоударства зарубежной Европы.

## УСЛОВНЫЕ ЗНАКИ

# ВЕЛИКОБРИТАНИЯ

РИЦНАЧФ

## ЗАДАНИЯ

1. Покажите на карте границы и подпишите районы Великобритании: Англия, Шотландия, Северная Ирландия, Уэльс.
2. С помощью условных знаков покажите месторождения полезных ископаемых.
3. Подпишите названия крупных городов Великобритании и цветом покажите их промышленную специализацию.
4. Покажите на контурной карте сельскохозяйственную специализацию Шотландии и Англии. Назовите отличия.
5. Подготовьте сообщение о достопримечательностях Лондона.

## УСЛОВНЫЕ ЗНАКИ



## ЗАДАНИЯ

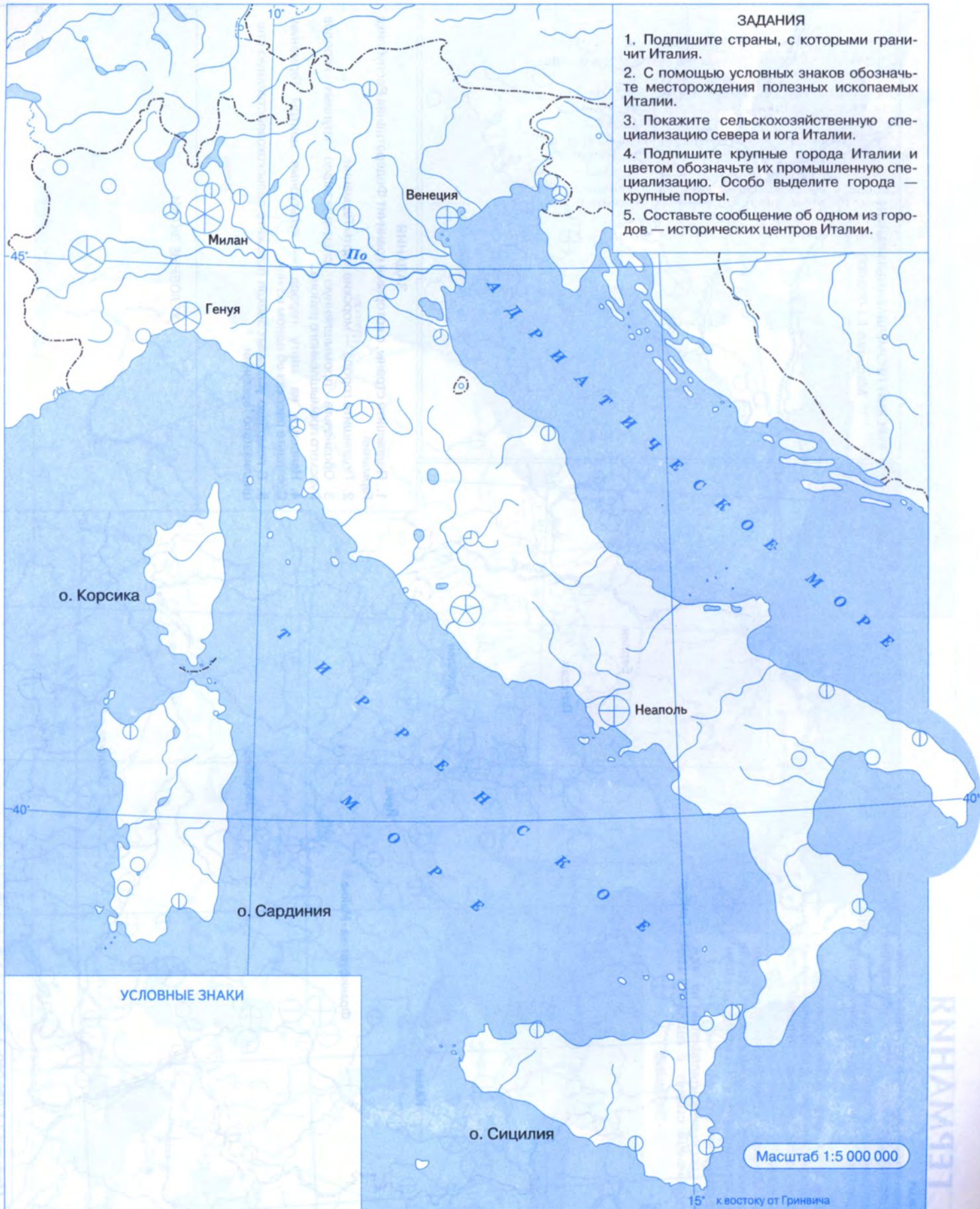
1. Подпишите страны, с которыми граничит Франция.
2. С помощью условных знаков покажите месторождения минеральных ресурсов.
3. Обозначьте на контурной карте АЭС Франции. Вспомните, какой процент от всего количества электроэнергии вырабатывается во Франции на АЭС.
4. Покажите промышленную специализацию крупных городов Франции. Составьте рассказ о достопримечательностях Парижа.
5. Сравните сельскохозяйственную специализацию северных и южных районов Франции. Покажите основные отличия на контурной карте.
6. Особо выделите города — крупные порты.

## УСЛОВНЫЕ ЗНАКИ





# ИТАЛИЯ



## ЗАДАНИЯ

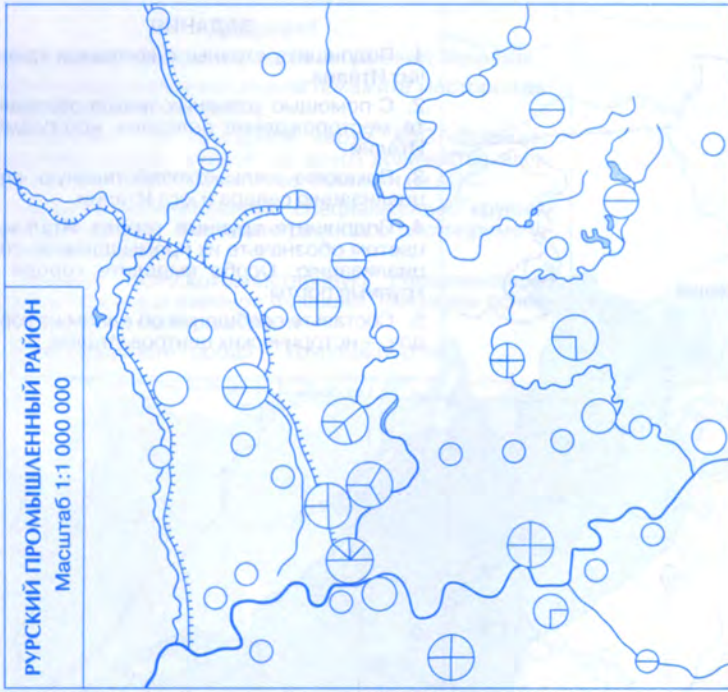
1. Подпишите страны, с которыми граничит Италия.
2. С помощью условных знаков обозначьте месторождения полезных ископаемых Италии.
3. Покажите сельскохозяйственную специализацию севера и юга Италии.
4. Подпишите крупные города Италии и цветом обозначьте их промышленную специализацию. Особо выделите города — крупные порты.
5. Составьте сообщение об одном из городов — исторических центров Италии.

## УСЛОВНЫЕ ЗНАКИ

Масштаб 1:5 000 000

15° к востоку от Гринвича

РИПМАНЕТ



### ЗАДАНИЯ

1. Подпишите страны, с которыми граничит Федеративная Республика Германия.
2. Подпишите города — морские порты Германии.
3. Обозначьте промышленную специализацию крупных городов Рурского промышленного района.
4. Нанесите на карту города — культурные центры Германии. Составьте рассказ об одном из них.
5. С помощью условных знаков покажите сельскохозяйственную специализацию Германии.

### УСЛОВНЫЕ ЗНАКИ

# ЗАРУБЕЖНАЯ АЗИЯ



### ЗАДАНИЯ

1. Обозначьте страны, с которыми граничит Российская Федерация на юге. Подпишите их столицы.
2. Подпишите столицы и названия стран, расположенных на полуостровах Малая Азия, Аравийском, Индостан, Индокитае, Корейском.
3. Обозначьте разными цветами страны зарубежной Азии, расположенные на островах, и страны, не имеющие выхода к морю.
4. Покажите штриховкой страны Азии с монархической формой правления.
5. Покажите районы, где в последнее время имели место вооружённые конфликты.

### УСЛОВНЫЕ ЗНАКИ

Масштаб 1:50 000 000

# ИНДИЯ



## ЗАДАНИЯ

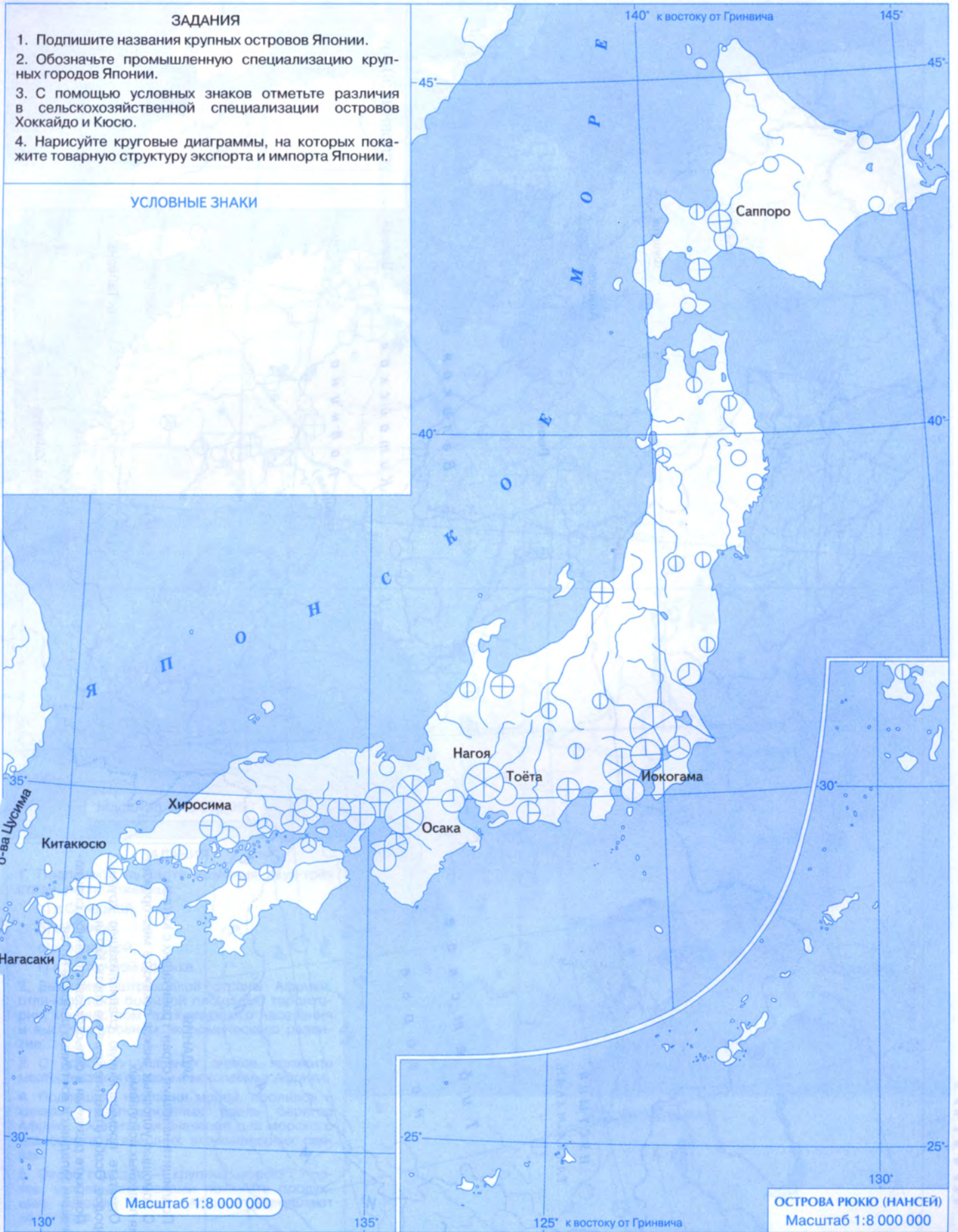
1. Обозначьте страны, с которыми граничит Индия.
2. Нанесите и подпишите месторождения полезных ископаемых.
3. Обозначьте промышленную специализацию наиболее крупных городов. Особо выделите крупные порты.
4. С помощью условных знаков покажите размещение основных сельскохозяйственных культур.
5. Стрелками на карте покажите структуру экспорта и импорта Индии.

# ЯПОНИЯ

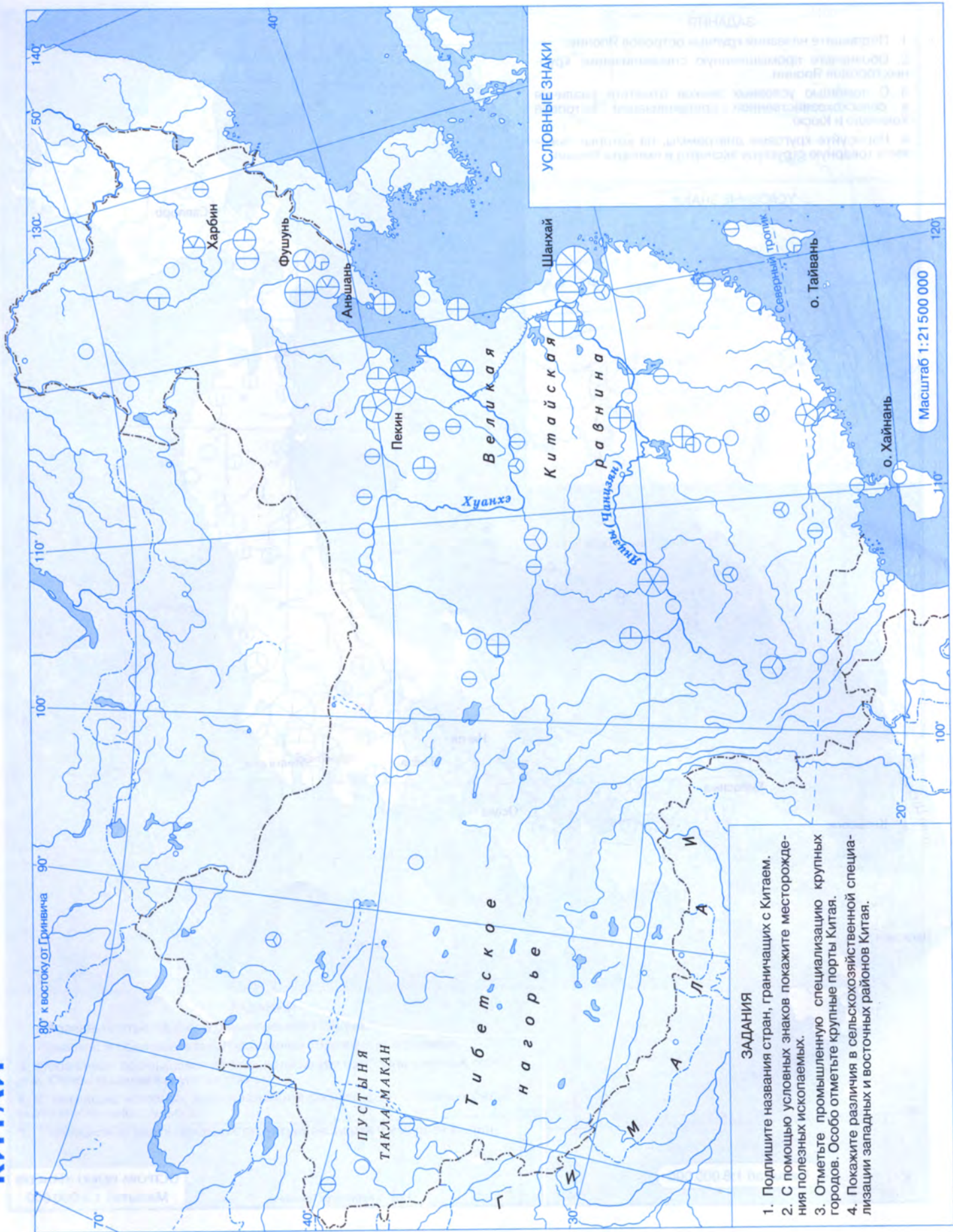
## ЗАДАНИЯ

1. Подпишите названия крупных островов Японии.
2. Обозначьте промышленную специализацию крупных городов Японии.
3. С помощью условных знаков отметьте различия в сельскохозяйственной специализации островов Хоккайдо и Кюсю.
4. Нарисуйте круговые диаграммы, на которых покажите товарную структуру экспорта и импорта Японии.

## УСЛОВНЫЕ ЗНАКИ



КНИТН



### ЗАДАНИЯ

1. Подпишите названия стран, граничащих с Китаем.
2. С помощью условных знаков покажите месторождения полезных ископаемых.
3. Отметьте промышленную специализацию крупных городов. Особо отметьте крупные порты Китая.
4. Покажите различия в сельскохозяйственной специализации западных и восточных районов Китая.



### ЗАДАНИЯ

1. Подпишите на карте названия двух-трёх стран, расположенных:
  - а) в Северной,
  - б) в Южной,
  - в) в Западной,
  - г) в Восточной Африке.
2. Выделите штриховкой страны Африки, отличающиеся большой площадью территории, количеством проживающего населения и высоким уровнем экономического развития.
3. С помощью условных знаков покажите месторождения полезных ископаемых Африки.
4. Подпишите названия морей, проливов и каналов, расположенных вдоль берегов Африки. Оцените их значение для морского транспорта и внешних экономических связей.
5. Около городов — крупных морских портов, условными знаками покажите продукцию, которую страны Африки поставляют на экспорт.

### УСЛОВНЫЕ ЗНАКИ



### ЗАДАНИЯ

1. Подпишите все страны, расположенные в Северной Америке, и их столицы.
2. Отметьте крупные города на юге Канады, на западе и востоке США.
3. Подпишите названия городов США, расположенных на берегах Миссисипи и в районе Великих озёр.
4. Обозначьте на карте площадь территории и количество населения, проживающего в Канаде и США. Рассчитайте среднюю плотность населения в этих странах.

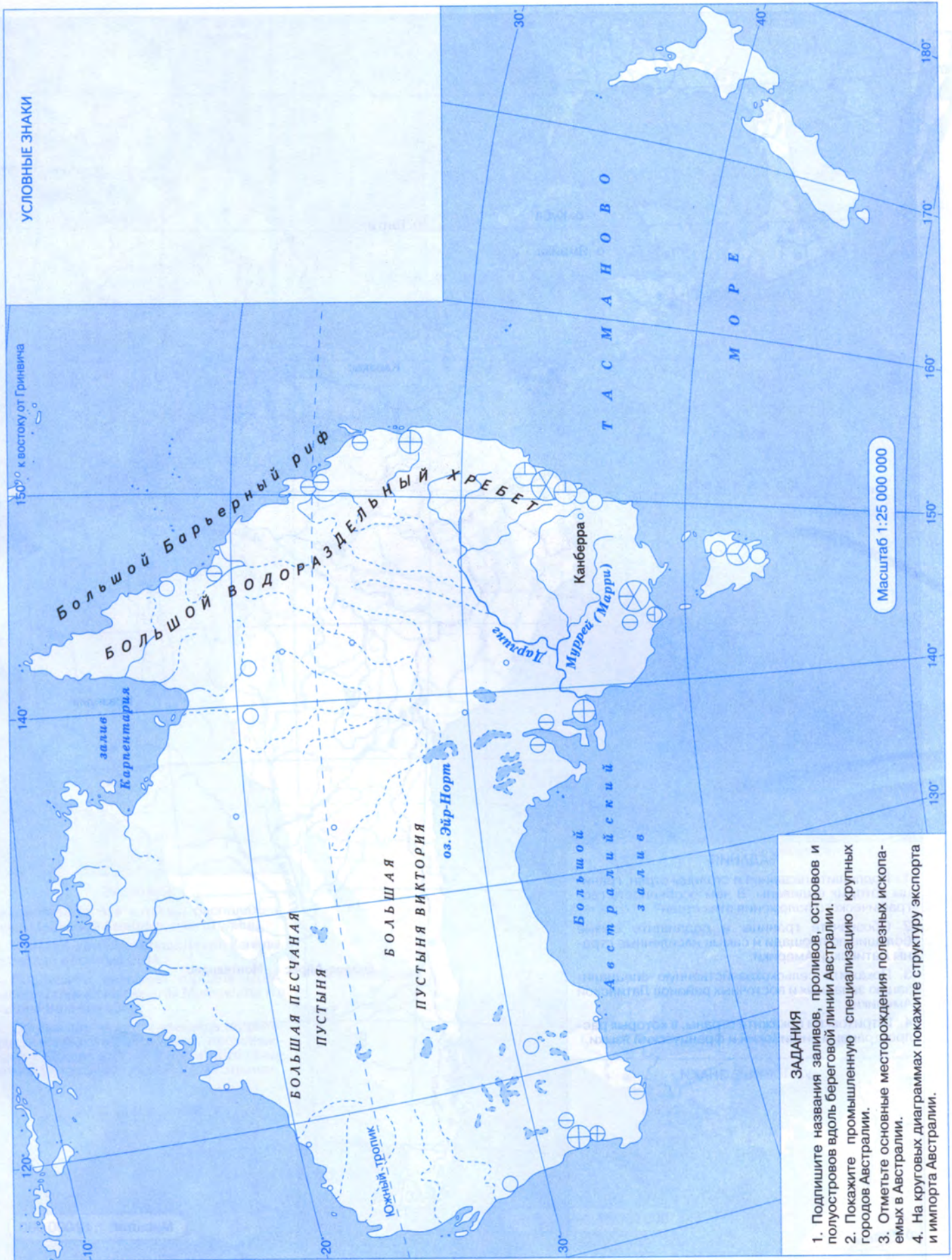
### УСЛОВНЫЕ ЗНАКИ



# ЛАТИНСКАЯ АМЕРИКА



# АВСТРАЛИЯ



© "ГАЛА" тел. (0692)57-24-06

http://www.gala.com.ua



13848101

Контурные карты География  
10 кл. Дрофа

Цена 80 руб

80

# 10

класс

# география



Рейкьявик

Отта

Вашинг

По вопросам приобретения продукции издательства «ДРОФА»  
обращаться по адресу: 127254, Москва, Огородный проезд, д. 5, стр. 2.

Сайт ООО «ДРОФА»: [www.drofa.ru](http://www.drofa.ru)

Электронная почта: [sales@drofa.ru](mailto:sales@drofa.ru)

Тел.: 8-800-200-05-50 (звонок по России бесплатный)

ISBN 978-5-358-14536-8



9 785358 145368

